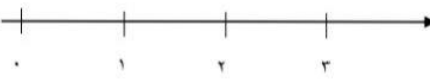
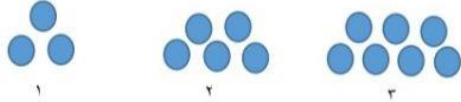
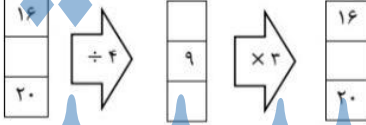





نام و نام خانوادگی: کلاس چهارم الف	به نام خالق زیبایی ها دبستان دخترانه شهید پورجندقی دی ماه ۱۴۰۱	آزمون ریاضی نوبت اول طراح: ندا فارسی
۱	<p>به سوالات مطرح شده در مورد عدد ۲۶۸ و ۴۷۹ و ۵۱۳ پاسخ دهید.</p> <ul style="list-style-type: none"> <li>* چند رقمی است؟</li> <li>* رقم ۷ در عدد فوق چه مرتبه ای دارد؟</li> <li>* ارزش بزرگترین رقم این عدد چند است؟</li> <li>* عدد بالا را به صورت گستره بنویسید؟</li> </ul>	
۲	<p>به عدد بنویسید. شش میلیون و هفتاد و نه هزار و هشتصد .....</p>	
۳	<p>کامل کنید. بزرگترین عدد فرد ۶ رقمی با رقم های غیر تکراری: <math>\frac{1}{4}</math> واحد مانده به عدد ۲ را روی محور نشان دهید.</p> 	
۴	<p>با کشف الگو و نوشتن رابطه بدون رسم شکل تعداد دایره های شکل ۶ را به دست آورید.</p>  <p style="text-align: center;">شکل ۶</p>	
۵	<p>ماشین مقابل را کامل کنید.</p> 	
۶	<p>جا های خالی را کامل کنید. نصف ۲۰۰۰ تا می شود؟ ثلث ۹۰۰ تا می شود؟ یک میلیون یعنی ..... دسته ی ۱۰۰۰۰۰ تا می</p> $\frac{2}{3} = \frac{4}{\quad} = \frac{\quad}{27}$	
۷	<p>مقایسه کنید. (&lt;=&gt;)</p> $\frac{2}{3} \square \frac{30}{12}$ $\frac{25}{25} \square \frac{0}{25}$ $300000 \square \text{سی میلیون}$ $\frac{4}{18} \square \frac{10}{18}$ $\frac{3}{20} \square \frac{3}{14}$ $\frac{5}{5} \square 1$	

	$\left( 2 \times \frac{2}{10} \right) - \frac{2}{10} =$ $\frac{24}{26} =$ ساده کنید	فرایندی $\begin{array}{r} 657 \overline{) 4} \\ \hline \end{array}$ تکنیکی $\begin{array}{r} 9725 \overline{) 32} \\ \hline \end{array}$	حاصل عبارت های زیر را به دست آورید. $\begin{array}{r} \times 328 \\ 903 \\ \hline \end{array}$	۸
	$345 - 126 = \dots - \dots =$ $222 \div 54 = \dots - \dots =$	$197 + 437 = \dots - \dots =$ $58 \times 460 = \dots - \dots =$	حاصل تقریبی عبارت های زیر را به دست آورید .	۹
	مینا $\frac{3}{8}$ گل های یک مزرعه را فروخت و $\frac{2}{16}$ گل های مزرعه را به جشن نیکوکاری هدیه کرد. چه کسری از گل های مزرعه تمام شده است؟ چه مقدار از گل ها هنوز برداشت نشده است؟			۱۰
	تقریب هزارگان $27340 \rightarrow$	تقریب تن $4985 \rightarrow$	تقریب بزنید.	۱۱
	شکل مربوط به عبارت ها را کامل کرده و رنگ آمیزی کنید.			۱۲
	  			۱۳
	در یک جعبه کلوچه ۲۰ ردیف ۱۵ تایی کلوچه چیده شده است می‌خواهیم کلوچه ها را بین ۶ مدرسه تقسیم کنیم به هر مدرسه چند کلوچه می‌رسد؟			